

# 期末测试卷(一)

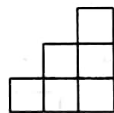
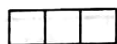
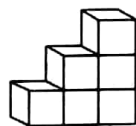


(时间:60 分钟 满分:100 分)

题 号	一	二	三	四	五	六	七	总 分
得 分								

## 一、填空题。(每空 1 分,共 13 分)

- $6 \times 8 = 48$ , 读作( ), 其中乘数分别是( )和( ), 积是( )。
- 每个人吃 4 个梨, 8 个人吃( )个梨, 24 个梨够( )个人吃。
- 63 减去 7, 减( )次结果是 14, 用算式表示是( )。
- 兰兰有 8 张邮票, 明明有 12 张邮票, 兰兰比明明少( )张邮票, 明明再给兰兰( )张, 两人的邮票就同样多了。
- 下面的图形分别是 从什么方向看到的? 填一填。



从( )面看 从( )面看 从( )面看

## 二、判断题。(对的打“√”,错的打“×”)(5 分)

- 在计算加法和减法时,一般都要从个位算起。( )
- 一个数是 14, 比这个数多 27 的数是 13。( )
- 一只小白兔 5 分钟吃 1 个萝卜, 5 只小兔同时吃 5 个萝卜, 需要 25 分钟。( )
- 因为  $3 \times 8$  和  $4 \times 6$  的得数相同, 所以计算时用同一句乘法口诀。( )
- 角的大小与角的两条边长短有关, 边长越长角越大。( )

## 三、选择题。(8 分)

- 时针指向 5, 分钟指向 12, 这时是( )。  
A. 5 时                      B. 12 时 5 分                      C. 5 时 12 分





2. 红红今年 13 岁,妈妈比红红大 27 岁,红红和妈妈一共( )岁。

A. 40

B. 53

C. 64

3. 从( )看到的图形是.

A. 前面

B. 上面

C. 侧面

4. 钢笔每支 10 元,圆珠笔每支 2 元,钢笔的价钱是圆珠笔价钱的多少倍?  
这道题是求( )。

A. 10 的 2 倍是多少

B. 10 是 2 的多少倍

C. 把 10 平均分成 2 份,每份是多少

#### 四、计算题。(24 分)

1. 算一算。(4 分)

$5 \times 6 =$

$24 \div 4 =$

$25 \div 5 =$

$4 \times 3 =$

$20 \div 4 =$

$21 \div 3 =$

$7 \times 8 =$

$54 \div 9 =$

2. 脱式计算。(12 分)

$36 + 48 - 45$

$70 - 36 - 25$

$82 - 56 + 39$

$28 + 35 + 17$

$100 - 55 - 36$

$72 + 12 - 67$

3. 看图列式计算。(8 分)

(1) 鸭: 9只

鸡:

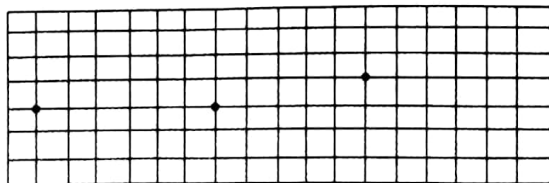
?

(2) 125千克 98千克 210千克

? 千克


#### 五、操作题。(9 分)

1. 从给出的三个点出发,分别画一个直角、一个比直角大的角、一个比直角小的角。(3 分)




2. 在下面每个图形上剪一刀(用实线表示),使它变成符合要求的图形。


(6 分)



剩1个直角




剩2个直角



剩3个直角


六、圈出小女孩从镜子里看到的图像。(8 分)



七、解决问题。(33 分)

1. 欢度国庆。(8 分)

(1) 班级共 3 个窗台,需要多少盆花?



(2) 桌子上一共放了多少瓶矿泉水?

2. 体育课上举行跳绳比赛,明明跳了 45 下,东东跳得比明明少 15 下,他们两人一共跳了多少下?(5 分)



3. 生活中的数学。(9 分)



爷爷

我今年54岁。



小华

我今年6岁。

我的年龄是小华的5倍。



爸爸

(1) 爸爸今年多少岁?

(2) 爷爷的年龄是小华的几倍?

(3) 爸爸比爷爷小多少岁?

4. 下面是三位同学为希望小学捐书的情况。(11 分)

姓名	李军	王山	刘荣
书/本	13	10	15

(1) 用涂色的方法完成下面的统计图。(4 分)

李军 ☐☐☐☐☐☐☐☐☐☐☐☐☐☐☐☐☐☐☐☐☐

王山 ☐☐☐☐☐☐☐☐☐☐☐☐☐☐☐☐☐☐☐☐

刘荣 ☐☐☐☐☐☐☐☐☐☐☐☐☐☐☐☐☐☐☐☐

(2) ( ) 捐的书最多。(3 分)

(3) 刘荣比王山多捐多少本?(4 分)

